

Инструкция по заполнению листа ответов третьего (тестового) тура

1. Листы с тестовыми заданиями остаются у участников, их можно использовать в качестве черновиков.
 2. В листе ответов каждому из 30 вопросов соответствуют четыре варианта ответа. Варианты обозначены буквами А–Г. Необходимо выбрать **ТОЛЬКО ОДИН** вариант ответа, который вы считаете правильным, и обвести его на листе для ответа. Для этого следует использовать авторучку, обводить ответы карандашом нельзя.
 3. Исправления в листе ответов **НЕДОПУСТИМЫ**. Ответы, где есть исправления, обведено несколько вариантов ответа, или не обведён ни один вариант, не рассматриваются и не оцениваются.
 4. За правильный ответ на один вопрос начисляется **1 балл**, максимальная оценка – **30 баллов**.
-

1. Какое озеро является самым большим по площади в Зарубежной Европе?

- А. Балатон Б. Венерн В. Женевское Г. Лох-Несс

2. Какой учёный в книге «Происхождение континентов и океанов» изложил теорию, ставшую основой современной геотектоники?

- А. Альфред Вегенер В. Михаил Ломоносов
Б. Владимир Вернадский Г. Чарльз Лайель

3. Кто из перечисленных исследователей прошёл водным путём по реке Касикьяре между бассейнами Амазонки и Ориноко?

- А. Александр фон Гумбольдт
Б. Георг Генрих (Григорий Иванович) фон Лангсдорф
В. Николай Иванович Вавилов
Г. Чарльз Дарвин

4. В какой тройке городов 21 декабря солнце в истинный полдень находится близко к зениту?

- А. Алис-Спрингс, Сан-Паулу, Уолфиш-Бей
Б. Дакка, Гавана, Маскат
В. Куско, Порт-Морсби, Дар-эс-Салам
Г. Окленд, Сантьяго, Порт-Элизабет

5. Какова разница по местному солнечному времени между крайними западной и восточной (островной) точками России?

- А. 8 ч. 14 мин. Б. 9 ч. 54 мин. В. 11 ч. 24 мин. Г. 12 ч. 44 мин.

6. Какой из четырёх заливов также известен как море Кортеса?

- А. Гуаякиль В. Ла-Плата
Б. Калифорнийский Г. Панамский

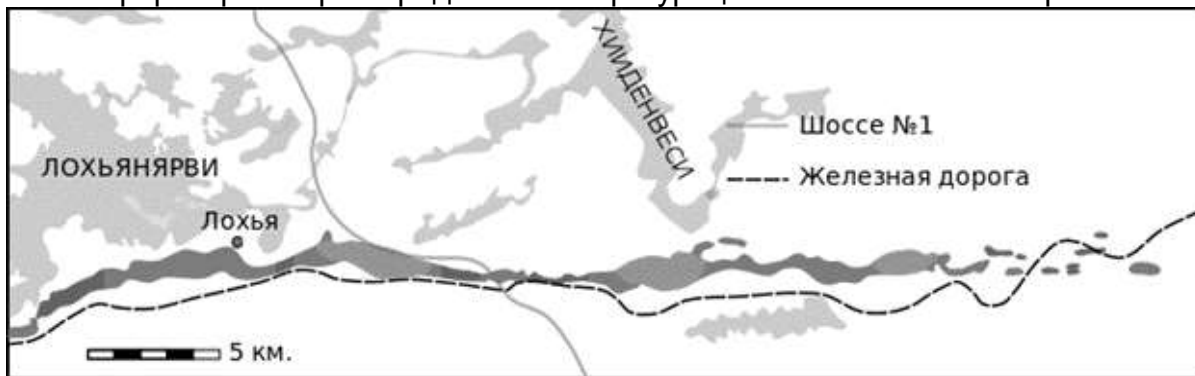
7. Территория какого из четырёх островов наиболее удалена от любого другого участка суши на планете?

- А. Буве Б. Вознесения В. Кергелен Г. Питкэрн

8. Какой из четырёх городов находится на реке бассейна внутреннего стока?

- А. Белгород Б. Курск В. Липецк Г. Тамбов

9. Какая форма рельефа определила конфигурацию показанного на карте шоссе?



А. Баряны лбы

Б. Дюны

В. Конечно-моренная гряда

Г. Прирусловой вал

10. Какое сочетание средней температуры июля и годовой суммы осадков соответствует южной границе тундровой зоны?

А. +4 °С — 200–250 мм

В. +10 °С — 500–650 мм

Б. +10 °С — 200–250 мм

Г. +15 °С — 500–650 мм

11. Как называются изолированные плосковершинные вулканические подводные горы высотой до 5 км, вершины которых располагаются на относительно небольшой глубине?

А. Бэровы бугры

В. Конкреции

Б. Гайоты

Г. Лакколиты

12. В каком субъекте Российской Федерации по состоянию на 01.01.2017 г. доля мужчин в общей численности населения превышала 50%?

А. Владимирская область

В. Чеченская Республика

Б. Республика Дагестан

Г. Чукотский АО

13. Какой из четырёх портов специализирован на отгрузке сжиженного природного газа?

А. Ванино

В. Козьмино

Б. Де-Кастри

Г. Пригородное

14. В какой из четырёх стран доля промышленности в структуре ВВП превышает 50%?

А. Алжир

В. Лесото

Б. Замбия

Г. Экваториальная Гвинея

15. В какой из четырёх пустынь самая высокая плотность населения?

А. Деште-Кевир

В. Малый Нефуд

Б. Намиб

Г. Тар

16. Какой из четырёх топонимов является дромонимом?

А. Атакама

В. Эльбрус

Б. Чуйский тракт

Г. Янисъярви

17. Через русло какой из четырёх рек построен только один железнодорожный мост?


А. Амур

Б. Лена

В. Нева

Г. Обь

18. Какой объект изображён на фотографии?



- А. Золотоносный прииск
Б. Комплекс водоочистки
В. Морской грузовой терминал
Г. Приливная электростанция
19. Какая из четырёх территорий имеет наиболее густую речную сеть?
А. Остров Сахалин
Б. Архипелаг Новосибирские острова
В. Прикаспийская низменность
Г. Плато Устюрт
20. В честь какого города назван химический элемент лютеций?
А. Люксембург
Б. Париж
В. Рим
Г. Стокгольм
21. Какой из четырёх городов имеет ярко выраженную многоядерную планировочную структуру?
А. Брянск
Б. Вологда
В. Кострома
Г. Новгород
22. Ландшафт какой из четырёх территорий входит в список Всемирного наследия ЮНЕСКО?
А. Берингия
Б. Валдай
В. Даурия
Г. Фенноскандия
23. Как называется архипелаг, на котором находится Республика Кабо-Верде?
А. Азорские острова
Б. Бермудские острова
В. Канарские острова
Г. Острова Зелёного Мыса
24. Выберите тройку стран, НЕ имеющих непосредственного выхода к морю.
А. Австрия, Боливия, Ботсвана
Б. Афганистан, Мали, Уругвай
В. Боливия, Конго, Монголия
Г. Парагвай, Румыния, Судан
25. В какой из четырёх стран на тысячу жителей приходится больше всего автомобилей?
А. Австралия
Б. Германия
В. Швеция
Г. Япония

26. Какой показатель отражён на картограмме, составленной по итогам Переписи населения Российской империи 1897 года?



- А. Доля германоязычного населения
- Б. Доля городского населения
- В. Доля занятых в промышленности
- Г. Уровень грамотности населения

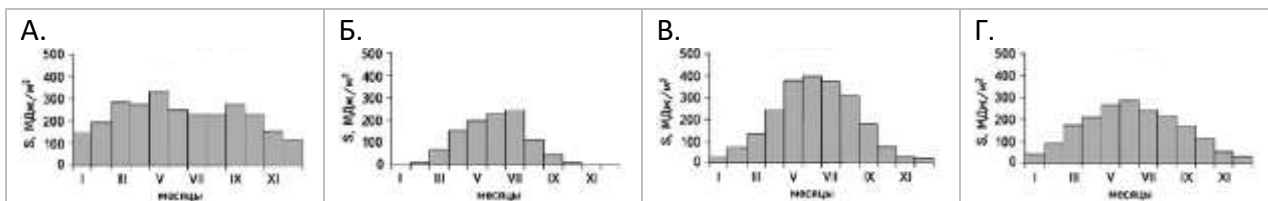
27. Как называется перемещение ветром снега в горизонтальном направлении на высоте до 1 м над снежным покровом?

- А. Вьюга
- Б. Позёмок
- В. Снежная мгла
- Г. Шквал

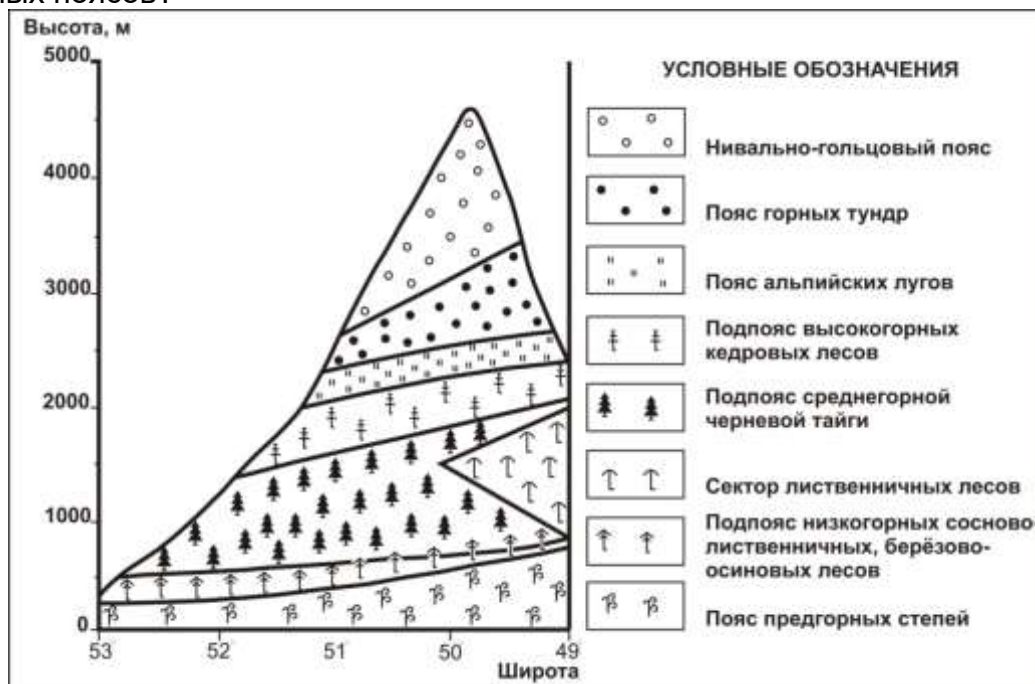
28. Как называется хребет, самой высокой точкой которого является вершина горы Шикотан?

- А. Хребет Витязя
- Б. Хребет Ломоносова
- В. Хребет Менделеева
- Г. Хребет Ширшова

29. На каком из рисунков показан годовой ход прямой солнечной радиации в Мурманске?



30. Для какой горной страны характерно изображённое на рисунке сочетание высотных поясов?



- А. Алтай
- Б. Кавказ

- В. Саяны
- Г. Сихотэ-Алинь