

2 ТУР 10-11 класс
Материалы для проверки

1. [5 баллов]

Номер в генеалогическом древе	Букв. обозначение рисунка печати	Имя князя
1	Нет печати	Даниил Александрович
2	Нет печати	Юрий Данилович
3	А	Иван Данилович Калита
4	Е	Семен Гордый
5	Нет печати	Иван Красный
6	Б	Дмитрий Донской
7	Нет печати	Василий I Дмитриевич
8	Г	Юрий Дмитриевич Звенигородский
9	Д	Василий II Темный
10	В	Дмитрий Шемяка

Считаем каждую верно заполненную строку таблицы.

1-2 верных ответа – 1 балл

3-4 верных ответа – 2 балла

5-6 верных ответов – 3 балла

7-8 верных ответов – 4 балла

9-10 верных ответов – 5 баллов

2. [11 баллов].

- 1) Икона – Владимирская Богоматерь \ Насаждение Древа государства Российского (принимать любой вариант из предложенных) – 1 балл.
- 2) XVII в. – 1 балл. Если датировка неверна, обоснование не проверяем!
- 3) Возможные обоснования – **максимум 5 баллов за обоснование:**
 - **на увеличенном фрагменте хорошо видна Кремлевская стена:**
 - башни уже венчаются шатрами – 1 балл;
 - над Спасской башней уже есть двуглавый орел – 1 балл,
 - над Никольской башней орла еще нет – 1 балл;
 - На Спасской башне уже установлены Куранты – 1 балл
 - Вокруг Кремлёвской стены еще существует т.н. «Алевизов ров» -1 балл

- на увеличенном фрагменте хорошо видны фигуры за Кремлевской стеной справа и слева. Учитывая сказанное про само изображение стены, можно предположить, что слева – Алексей Михайлович, а справа – его первая супруга Мария Ильинична Милославская и два сына (Алексей и Федор). Принимать также предположения, что это Михаил Федорович с супругой и сыновьями (чисто теоретически это возможно). Главное- участник должен понимать, что перед нами **первые представители новой династии Романовых** – 1 балл.

- **сама иконописная манера** характерна для XVII в.:

реалистичность в изображении Богоматери, младенца, других фигур – 1 балл;

внимание к деталям (Кремль, одежда и пр.), тщательная проработка рисунка самого древа – 1 балл;

богатый декор – 1 балл.

Изображение роз (первые розы появились в Москве при Михаиле Фёдоровиче Романове) -1 балл

4) **Идея** (принимаются любые близкие по смыслу формулировки) – законность (легитимность) новой династии Романовых; преемственность между прежней и новой династиями; божественный характер происхождения власти, «симфония» властей светской и духовной – **1 балл за идею**. Если идея неверна, обоснование не проверяем!

5) Возможные обоснования – **максимум 3 балла за обоснование:**

- перед нами своеобразное генеалогическое древо Рюриковичей-Романовых (древо вообще!) – 1 балл;

- сажают и поливают древо Иван Калита и первый московский митрополит Петр – 1 балл;

- наверху в облаках Спас, вручающий парящим ангелам венец и ризу для Алексея Михайловича: царь небесный венчает царя земного (принимается любая формулировка, включающая мысль, что Бог передает символы власти земным правителям) – 1 балл;

- в центральном медальоне – образ Богоматери Владимирской подтверждает предыдущую мысль – 1 балл.

Для справки – это икона «Древо Государства Российского» («Похвала Владимирской иконе Божией Матери», «Насажение древа государства российского») Симона Ушакова (1668 г.). – простое узнавание иконы не является обоснованием датировки (**давать 1 балл!**).

3. [10 баллов]

	1	2	3	4	5	6	7	8	9	10
Буква	В	И	Е	Г	Д	Ж	Б	З	К	А

По 1 баллу за каждый верный ответ (полностью правильно заполненный столбец).

4. [10 баллов]

Номер фрагмента	Номер на карте	Название города
А	9	Екатеринбург
Б	1	Новгород

В	10	Оренбург
Г	3	Киев
Д	6	Тула
Е	7	Тамбов
Ж	5	Кострома
З	4	Ярославль
И	8	Саратов
К	2	Смоленск

По 1 баллу за каждую верно заполненную строку таблицы.

5. [9 баллов]

Деятель	Букв. обозначения фрагментов
Франц Лефорт	Б, Е, И, К
Александр Данилович Меншиков	А, Ж, Г
Борис Петрович Шереметев	В, Л
Петр Андреевич Толстой	Д, З

Историк Павленко Николай Иванович (принимать также ответы без имени и отчества) – **1 балл**.

Оцениваем правильно названные фамилии (**максимум 3 балла**):

1 правильная фамилия – 1 балл;

2-3 правильных фамилии – 2 балла;

4 правильных фамилии – 3 балла.

Если деятель назван неверно, далее строку не оцениваем.

Правильное соотнесение фамилии и фрагмента оцениваем следующим образом (**максимум 5 баллов**):

2-3 верных ответа – 1 балл

8-9 верных ответов – 4 балла

4-5 верных ответов – 2 балла

10-11 верных ответов – 5 баллов

6-7 верных ответов – 3 балла

6. [11 баллов]

Номер на карте	Букв. обозначение фрагмента	Название казачьего войска
1	А	Кубанское
2	В	Донское
3	З	Терское
4	Ж	Астраханское

5	Г	Уральское
6	Б	Оренбургское
7	Е	Сибирское
8	Л	Семиреченское
9	Д	Забайкальское
10	И	Амурское
11	К	Уссурийское

По 1 баллу за каждую верно заполненную строку таблицы.

7. [6 баллов]

ВЕРНО	НЕВЕРНО
1, 2, 5, 6, 7, 8	3, 4, 9, 10

1- верный ответ – 1 балл

6-7 верных ответов – 4 балла

2-3 верных ответа – 2 балла

8-9 верных ответов – 5 баллов

4-5 верных ответов – 3 балла

10 верных ответов – 6 баллов

8. [10 баллов]

Фото	Датировка ¹	Объяснение
А	1943-1944	Рокоссовский К.К. (уже погоны с февраля 1943, орден Суворова с к. 1942, Рокоссовский генерал, а не маршал (1944).
Б	1919 г.	Чапаев В.И. Чапаев уже награжден Орденом Красного Знамени, еще жив (погиб в 1919).
В	1941-1942 (1943)	Еще нет погон, маршалов три (Тимошенко с 1940), уже началась ВОВ).
Г	1938 г.	Чкалов В.И. Чкалов с медалью 20 лет РККА (1938 г.), при том Чкалов погиб в 1938 г.
Д	1917-1918.	Красная гвардия образована в 1917 г. (причем именно тогда формировалась по предприятиям), в 1918 г. активно вливалась в ряды РККА. Обращает на себя внимание старая орфография надписи (к концу 1918 г. перешли на новые правила правописания) и одежда (у офицеров еще есть царские погоны).



¹ Принимать любые даты в правильном временном диапазоне.

Е	1943 г.	Ношение одновременно новых (погоны) и старых (петлицы) знаков различия зимой—весной 1943-го года.
Ж	1922-1925	Фрунзе М. В. Такие нарукавные знаки различия были введены только в 1922, а в 1925 Фрунзе уже умер. Реально фото может быть 1924-1925 г., т.к. сын Фрунзе Тимур родился в 1923 г.
З	1945	Парад Победы: погоны, боевые награды. Явно Красная площадь (брусчатка, ГУМ).
И	1935-37	Первые маршалы Советского Союза (звание маршала учреждено в 1935, а летом 1937 уже был репрессирован Тухачевский).
К	1922-1927	Троцкий Л.Д. Такие нарукавные знаки различия были введены только в 1922, а в 1927 Троцкий был снят со всех постов и исключен из партии.

По 1 баллу за каждую полностью верно заполненную строку.

9. [9 баллов]

По 1 баллу за каждую полностью верно заполненную строку.

Фото	Фамилия, имя	Место совершения подвига	Год(ы)	Дополнительные сведения	Литературно или кинофильм
	Зоя Космодемьянская	Московская обл. дер. Петрицево ³	1941	Первой из женщин в годы ВОВ была удостоена звания Героя Советского Союза (посмертно)	2
	Матвей Кузьмин	Псковская обл. ⁴	1942	Самый старший обладатель звания Героя Советского Союза (посмертно)	3

² Выбрать из предложенного списка. Вписать соответствующий номер в таблицу.

³ Достаточно Моск.обл.

⁴ Принимать ответ Калининская обл.



	Валя (Валентин) Котик	Украина, Хмельницкая обл. ⁵	1944	Самый юный Герой Советского Союза (посмертно). Погиб в 14 лет.	-
	Марат Казей	Белоруссия, Минская обл. ⁶	1944	Необычное (для его родных мест) имя мальчика объясняется тем, что отец назвал его в честь корабля, на котором проходил службу. В партизанский отряд ушел вместе со старшей сестрой, после того как оккупанты казнили их мать. Герой Советского Союза (посмертно).	-
	Зина Портнова	Белоруссия, Полоцк ⁷	1944	Погибла в 17 лет. Герой Советского Союза (посмертно).	4
	Сидор Ковпак	Украина, Белоруссия	1941 - 1944	Дважды Герой Советского Союза. Партизанское соединение под его командованием прошло с боями по тылам немецко- фашистских войск более 10 тысяч километров, разгромило гарнизоны противника в 39 населённых пунктах.	7
	Олег Кошевой	Краснодон, Украина ⁸	1942 - 1943	Погиб в 16 лет. Герой Советского Союза (посмертно).	1

⁵ Достаточно Украина

⁶ Достаточно Белоруссия

⁷ Достаточно Белоруссия

⁸ Принимать также Ворошиловградскую обл.

	Володя Дубинин	Керчь	1942	Был одним из членов партизанского отряда, воевавшего в каменоломнях. Погиб в 14 лет. Награжден орденом Красного Знамени (посмертно).	5
	Николай Кузнецов	Украина, Львовская обл. ⁹	1944	Разведчик, диверсант, партизан, лично ликвидировавший 11 генералов и высокопоставленных чиновников оккупационной администрации нацистской Германии. Герой Советского Союза (посмертно).	6

10. [6 баллов].

1) Событие – президентские выборы 1996 г. – 1 балл. Если событие определено или датировано неверно, далее не проверяем.

2) Возможные обоснования – **максимум 5 баллов за обоснование:**

- выборы прошли в 2 тура (Фрагмент № 1) – 1 балл;

- главный конкурент Б.Н. Ельцина лидер коммунистов Г.А. Зюганов – отсюда явная антикоммунистическая направленность агитационных материалов (нагнетание антикоммунистической истерии, «страшилки» про дефицит, обострение социальных противоречий и пр.) (Фрагмент № 5) – 1 балл;

- Александр Лебедь участвовал только в одних президентских выборах (Фрагмент № 3) – 1 балл;

- Мартин Шакум участвовал только в одних президентских выборах (Фрагмент № 4) – 1 балл;

- состав кандидатов (должны быть названы хотя бы кто-то из кандидатов, спародированных во Фрагменте № 4) соответствует только ситуации лета 1996 г. – 1 балл;

- один из кандидатов – Григорий Явлинский – 1 балл;

- Лозунг «Голосуй или проиграешь!» – 1 балл.

11. [13 баллов].

1) Какая историческая эпоха представлена в Фрагменте № 1? – Петровская эпоха, эпоха Петра I, Первая четверть XVIII века – **1 балл.**

2) Какие памятники культуры, не соответствующие хронологически этой эпохе, показаны в Фрагменте № 1. Назовите их авторов – Медный всадник (Фальконе), Адмиралтейство

⁹ Достаточно Украина. Принимать также Западная Украина.

(Захаров), Исаакиевский собор (Монферран) – **1 балл за 2-3 правильных ответа** (памятник с автором).

3) Какая историческая эпоха представлена в Фрагменте № 2? – Александра I, Первая четверть XIX в., начало XIX в. Не принимались Отечественная война 1812 г., Первая половина XIX в., Наполеоновские войны. - **1 балл.**

4) Образы из какого произведения были выбраны для отражения этой эпохи? Чем можно объяснить выбор этого произведения авторами сценария для церемонии открытия XXII Олимпийских игр? – «Война и мир» Л.Н. Толстого - **1 балл.** Объяснение: Толстой – один из самых читаемых русских писателей в мире; церемония ориентирована на иностранцев; образы должны быть узнаваемы - **1 балл.**

5) Какой период представлен в Фрагменте № 3? «Большой скачок» (варианты: 1920-1930-е гг.; период коллективизации и индустриализации, 1930-е гг., первая и вторая пятилетка) - **1 балл.**

6) Какой художественный стиль был выбран авторами для отражения этого периода? – Авангард. Не принимались авангардизм, конструктивизм. - **1 балл.**

7) Какие конкретные события положены в основу Фрагмента № 4 (назовите минимум 3 события с датировкой с точностью до года)? 1961 г. – полет Ю. Гагарина в космос, полет первого человека – только с датой (запуск спутника не принимался);

1937 г. – беспосадочный перелет Москва-Северный полюс- Ванкувер (В. Чкалов);

1937 г. – создание монумента «Рабочий и колхозница»;

1985-1991 – перестройка. Принимались либо 1985-1991, либо 1985, либо 1987 г.

1 балл за 1 правильный ответ; 2 балла – за 2-3 правильных ответа (событие с датировкой).

Позволяют ли эти события определить, какой период представлен в Фрагменте № 4? Поясните свой ответ. - Нет, речь не может идти об определенном периоде (фрагмент содержит события из совершенно разных периодов) - **1 балл.**

8) Проанализировав все предложенные Вам фрагменты, попробуйте предположить, в чем состоит основная идея, положенная авторами в основу церемонии открытия XXII Олимпийских игр? Чем обосновывается эта идея (приведите минимум 3 конкретных примера)? – **Идея** величия и мощи нашей страны (в любых формулировках), развитие, богатство истории, преемственность эпох, выдающиеся достижения. Обоснование: сильная армия и флот (Фрагмент № 1); великая культура (литература, балет - Фрагмент № 2); мощная экономическая база (Фрагмент № 3); достижения в области науки и техники (Фрагмент № 4) - **1 балл за 1 правильный ответ (идея и 1 конкретный пример); 2 балла – за 2-3 правильных ответа (идея и 2-3 конкретных примера).** Обозначение идеи без обоснования не оценивается.

Как эта идея соотносится с требованиями исторического момента, когда проходили эти игры? – Февраль 2014 г., нарастание напряженности в отношениях с Западом из-за кризиса на Украине или начала крымских событий, призыв к мирному сотрудничеству, открытости. Аргумент о присоединении Крыма не принимался, т.к. оно произошло после Олимпиады. - **1 балл.**